



14. Każdy obrazek został podzielony na kolumny z numerkami. Znajdź 6 szczegółów, którymi różnią się te dwa obrazki. Odczytaj numery kolumn, w których znajdują się te szczegóły i otocz je kółeczkami w tabelce pod obrazkami. Przeczytaj po kolei od lewej do prawej litery pod kółeczkami w tabelce. W ten sposób utworzysz wyraz z sześciu liter. Znajdź w odpowiedziach, co on oznacza.



1	2	3	4	5	6	7	8	9	10	11	12	13	14	15
M	F	W	R	Ś	Ó	B	E	Z	L	I	W	J	K	A


Wyraz utworzony w tabelce oznacza:

- A) kwiat ozdobny
- B) owada
- C) ptaka
- D) jadalną zieloną roślinę

15. Tomek opisał pogodę, którą obserwował w ciągu tygodnia.

„W poniedziałek napadało dużo śniegu. We wtorek przyszła odwilż. Przez następne trzy dni było coraz cieplej, a najwyższą temperaturę odnotowałem w piątek. Podczas weekendu (czytaj: *likendu*) znowu można było jeździć na sankach.”

Łukasz przyniósł zapiski pogody z tego samego tygodnia w tabelce.

PONIEDZIAŁEK	WTOREK	ŚRODA	CZWARTEK	PIĄTEK	SOBOTA	NIEDZIELA
						
-3°C	-4°C	-1°C	1°C	2°C	0°C	-2°C

W którym dniu opis Tomka i zapiski Łukasza nie zgadzają się?

- A) we wtorek
- B) w środę
- C) w piątek
- D) w niedzielę

16. Błona bębenkowa człowieka znajduje się w:











- A) nosie
- B) uchu
- C) gardle
- D) oku

17. Dźwięki nie mogą wędrować w:















- A) powietrzu
- B) wodzie
- C) drewnie
- D) próżni

18. Odczytaj szyfr. Dokończ zaszyfrowane zdanie.

Alfabet:

									
A	B	C	I	K	N	O	R	W	Y

Szyfr:

- A) jest zielony
- B) jest czerwony
- C) jest brązowy
- D) jest fioletowy