

Za brak odpowiedzi uczeń otrzymuje zero punktów za dane zadanie.  
Minimalna liczba punktów możliwych do uzyskania wynosi 0.  
Maksymalnie można uzyskać 72 punkty.

Tu wpisz swoje  
**IMIĘ**

Tu wpisz swoje  
**NAZWISKO**


**Doświadczenia do testu:**

1. Balonik i woreczek
2. Strzałki


**Czas: 45 minut**

**Zadania za 3 punkty**

**1. Który ptak w rzeczywistości ma czerwone nogi oraz dziób?**




A)



B)



C)



D)

**2. Co robi dzięcioł?**

- A) ćwierka
- B) grucha
- C) stuka
- D) kuka

**3. Które buty należy ubrać podczas ulewy w letni dzień, by nie przemoczyć nóg?**



A)



B)



C)



D)

**4. Pieprz jest:**

- A) słodki
- B) gorzki
- C) słony
- D) kwaśny

**5. Który pojazd nie ma ani kierownicy, ani pedałów?**


- A) deskorolka
- B) hulajnoga
- C) rower
- D) skuter

6. Podczas pocierania nadmuchanego balonika o włosy:

- A) balonik naelektryzuje się
- B) balonik się powiększy
- C) balonik się ochłodzi
- D) balonik namagnesuje się

**Zadania za 4 punkty**

7. Który obrazek przedstawia tyranozaura?



- A)                      B)                      C)                      D)

8. Na kartce narysowano strzałkę zwróconą w prawo:



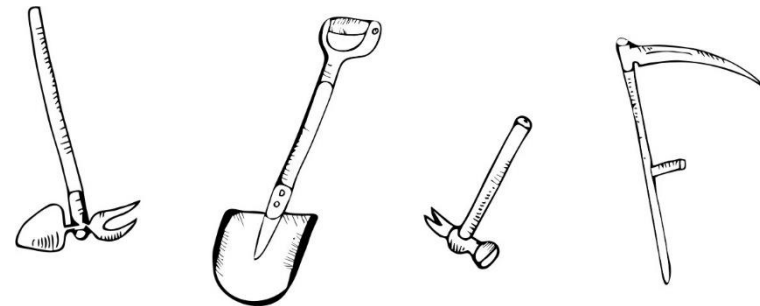
Możesz ujrzeć ją zwróconą w lewo, jeżeli popatrzysz na nią przez:

- A) pustą szklanę
- B) szklanę z wodą
- C) gładką, płaską szybę
- D) woreczek śniadaniowy

9. Które zwierzę nigdy nie korzysta z dziupli drzew?

- A) wiewiórka
- B) kret
- C) puszczyk
- D) nietoperz

10. Który rysunek przedstawia narzędzie żniwiarza?



- A)                      B)                      C)                      D)

11. Wenus była w mitologii boginią miłości. Tę samą nazwę nosi jeszcze:

- A) galaktyka
- B) gwiazda
- C) księżyc
- D) planeta

12. Którego przyrządu użyjesz, aby zobaczyć w powiększeniu obrazek w książce?

- A) lunety
- B) teleskopu
- C) lupy
- D) kawałka gładkiej szyby

**Zadania za 5 punktów**

**13. Julka potarła nadmuchanym balonikiem i małym woreczkiem o swoje włosy. Co się stanie, gdy Julka umieści woreczek tuż nad balonikiem?**

- A) woreczek spadnie na podłogę
- B) woreczek spadnie na balonik
- C) woreczek odleci do sufitu
- D) woreczek zawiśnie w powietrzu

**14. Postaw znak X obok każdego prawdziwego zdania:**

Ocean jest większy od morza.	
Pustynie są tylko w Afryce.	
Aby żarówka świeciła, musi przez nią płynąć prąd.	
Na Antarktydzie jest bardzo zimno.	

**Ile zdań jest prawdziwych?**

- A) 1
- B) 2
- C) 3
- D) 4

**15. Zamiast kropek wstaw wyraz pasujący do zdania:**

**„Byk jest ojcem .....**”

- A) jagnięcia
- B) jałówki
- C) szczenięcia
- D) źrebięcia

**16. Podczas burzy powstają pioruny. Wówczas:**

- A) nigdy nie widzimy błysków ani grzmotów
- B) zawsze jednocześnie widzimy błysk i słyszymy grzmot
- C) najpierw widzimy błysk, a potem słyszymy grzmot
- D) najpierw słyszymy grzmot, a potem widzimy błysk

**17. Ile dni tygodnia ma w swojej nazwie literkę „o”?**

- A) dwa
- B) trzy
- C) cztery
- D) pięć

**18. Michał usłyszał w telewizji:**

**„Już za dziewięć godzin, wraz z nadejściem świtu możemy spodziewać się obfitych opadów śniegu. W ciągu dnia przewidywane są lokalne rozpogodzenia, a w godzinach popołudniowych – deszcz ze śniegiem”.**

**O jakiej porze Michał wysłuchał tych słów?**

- A) rano
- B) w południe
- C) po południu
- D) późnym wieczorem