

Za brak odpowiedzi uczeń otrzymuje zero punktów za dane zadanie.  
Minimalna liczba punktów możliwych do uzyskania wynosi 0.  
Maksymalnie można uzyskać 72 punkty.

### Doświadczenia do testu:

- Wirujące jajka
- Sztuczka z papierkiem

**Czas: 45 minut**

### Zadania za 3 punkty

#### 1. Robotnice można znaleźć w gniazdach:

- mrówek i pajaków
- pszczoł i mrówek
- pszczoł i pajaków
- pajaków i os

#### 2. Wisła wpływa do:

- Morza Bałtyckiego
- Morza Śródziemnego
- Morza Martwego
- Oceanu Atlantyckiego

#### 3. Który ptak zwiastuje wiosnę?



A)



B)



C)



D)

#### 4. Co znajduje się w butelce, z której wypito całą wodę?

- nic, butelka jest pusta
- mgła
- powietrze
- próżnia

#### 5. Szkło jest przeważnie:

- metalowe
- przezroczyste
- miękkie
- sprężyste

#### 6. Masło powstaje z:

- oleju
- mleka i żółtek jaj
- śmietany
- żółtego sera

### Zadania za 4 punkty

#### 7. Rozwiąż rebus:

~~RQ~~



R=N



L=S

#### Wyraz ten oznacza:

- planetę w Układzie Słonecznym
- mały organizm powodujący choroby
- ruch powietrza
- rodzaj tkaniny

**PAMIĘTAJ O PRZENIESIENIU ODPOWIEDZI NA KARTĘ ODPOWIEDZI**


**8. Żniwa w Polsce to:**

- A) koszenie trawy odbywające się wiosną
- B) koszenie trawy odbywające się latem
- C) zbiór zbóż odbywający się wiosną
- D) zbiór zbóż odbywający się latem

**9. Piekarnik grzeje, dlatego że:**

- A) piecze się w nim ciasta
- B) świeci w nim światło
- C) jest metalowy
- D) jest podłączony do prądu lub gazu

**10. Na którym rysunku pokazano dzikiego kota żyjącego w polskich lasach?**



- A)
- B)
- C)
- D)

**11. Osoby leworęczne zwykle piszą i rysują lewą ręką. Osoby praworęczne zwykle piszą i rysują prawą ręką. Których uczniów jest więcej w twoim otoczeniu?**

- A) leworęcznych
- B) praworęcznych
- C) praworęcznych i leworęcznych jest tyle samo
- D) w jednych klasach jest więcej praworęcznych, a w innych - leworęcznych









**12. Czy dmuchając w otwór butelki można wypchnąć mały papierek położony na brzegu wylotu butelki?**

- A) nie, nie można tego zrobić, bo papierek zawsze wpada do butelki
- B) nie, nie można tego zrobić, bo papierek ani nie wyskakuje, ani nie wpada do butelki
- C) tak, można to zrobić, gdy dmucha się z bliska prosto w papierek
- D) tak, można to zrobić, gdy dmucha się z bliska w wylot butelki ponad papierkiem

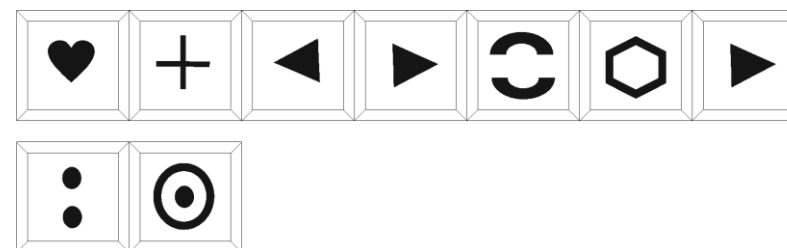
**Zadania za 5 punktów**

**13. Odczytaj szyfr. Dokończ zaszyfrowane zdanie.**

Alfabet:

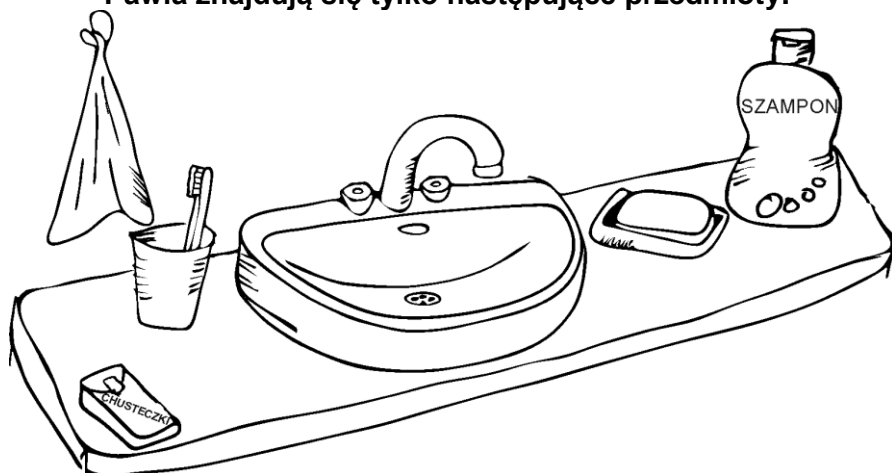
							
A	I	K	N	O	R	T	U

Szyfr:



- A) państwo
- B) kontynent
- C) góry
- D) rzeka

14. W domu Pawła jest dostęp do bieżącej wody. W łazience Pawła znajdują się tylko następujące przedmioty:



Czego Paweł **NIE** może zrobić podczas wieczornej toalety?

- A) umyć zębów
- B) umyć rąk
- C) wytrzeć twarzy i rąk po umyciu
- D) wysiąkać nosa

15. Postaw znak X obok każdego prawdziwego zdania:

W jajku ugotowanym na twardo białko i żółtko są ścięte.	
Jajko ugotowane na twardo obraca się szybciej niż surowe.	
Białko jajka to główny pokarm dla rozwijającego się w jajku kurczaka.	
Głównym zadaniem skorupki jajka jest utrzymywanie stałej temperatury w środku jajka.	








Ile zdań jest prawdziwych?

- A) 1
- B) 2
- C) 3
- D) 4

16. Natalia zapisała w swoim pamiętniku.

„Ostatnio codziennie padał śnieg. Bardzo się cieszyłam, bo niedługo rozpoczynam ferie i chciałam pojeździć na nartach. Niestety, jutro ma być ostatni dzień mrozu. Boję się, że do ferii cały śnieg się roztopi.”

Prognoza pogody na cały tydzień została zapisana w tabeli.

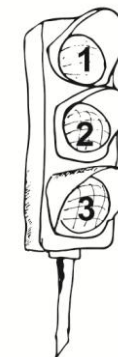
PONIEDZIAŁEK	WTOREK	ŚRODA	CZWARTEK	PIĄTEK	SOBOTA	NIEDZIELA
						
-2 °C	-4 °C	-1 °C	1 °C	2 °C	5 °C	5 °C

Kiedy Natalia napisała notatkę w swoim pamiętniku?



- A) w poniedziałek
- B) we wtorek
- C) w środę
- D) w czwartek

17. W Polsce na skrzyżowaniach dróg często można spotkać sygnalizację świetlną złożoną z trzech świateł. Światła oznaczono cyframi. W którym miejscu znajduje się światło czerwone?

- A) czasem w miejscu z cyfrą 1, a czasem w miejscu z cyfrą 3
- B) zawsze w miejscu z cyfrą 1
- C) zawsze w miejscu z cyfrą 2
- D) zawsze w miejscu z cyfrą 3



18. Każdy obrazek został podzielony na kolumny z numerkami. Znajdź 6 szczegółów, którymi różnią się te dwa obrazki. Odczytaj numery kolumn, w których znajdują się te szczegóły i otocz je kółeczkami w tabelce pod obrazkami. Przeczytaj po kolei od lewej do prawej litery pod kółeczkami w tabelce. W ten sposób utworzysz wyraz z sześciu liter. Znajdź w odpowiedziach, co on oznacza.



1	2	3	4	5	6	7	8	9	10	11	12	13	14	15	16
O	G	A	S	R	N	G	A	Z	M	N	O	T	Y	E	K

Wyraz utworzony w tabelce oznacza:

- A) resztkę świecy po jej wypaleniu
- B) naczynie do gotowania zupy
- C) odgłos powstający podczas uderzenia pioruna
- D) instrument muzyczny

**PAMIĘTAJ O PRZENIESIENIU ODPOWIEDZI NA KARTĘ ODPOWIEDZI**