

Za brak odpowiedzi uczeń otrzymuje zero punktów za dane zadanie.  
Minimalna liczba punktów możliwych do uzyskania wynosi 0.  
Maksymalnie można uzyskać 72 punkty.

**Doświadczenia do testu:**

1. Kopciuszek
2. Lupa bez szkła

**Czas: 45 minut****Zadania za 3 punkty****1. Żółty ser powstaje z:**

- A) ziemniaków i żółtek jajek
- B) majonezu
- C) mleka
- D) masła

**2. Kos i szpak to:**

- A) ptaki
- B) ryby
- C) gady
- D) drzewa

**3. Mieszaninę ryżu i mąki najszybciej rozdzielisz:**

- A) przesypując ją przez sitko
- B) używając magnesu
- C) zalewając ją wodą
- D) wybierając ziarnka ryżu palcami

**4. W kalendarzu nigdy nie ma daty:**

- A) 31 stycznia
- B) 29 lutego
- C) 31 marca
- D) 32 kwietnia

**5. Mieszkaś na kontynencie:**

- A) azjatyckim
- B) amerykańskim
- C) afrykańskim
- D) europejskim

**6. Które domki buduje się na podmokłych terenach?**

A)



B)



C)



D)

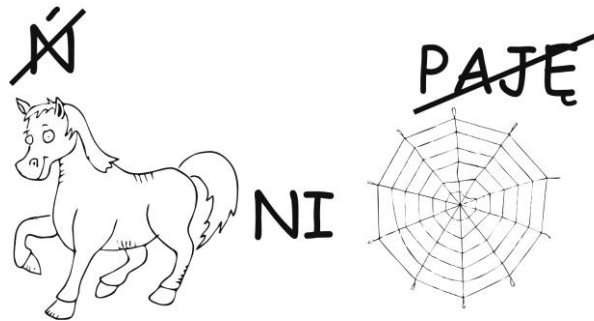
**Zadania za 4 punkty****7. Ile cyfr znajduje się zazwyczaj na tarczy zegara ze wskazówkami?**

- A) 10
- B) 11
- C) 14
- D) 15

**8. Suche drewniane wykałaczki lub patyki wrzucone do wody:**

- A) opadają na dno
- B) pływają płasko na powierzchni wody
- C) pływają ustawione pionowo
- D) pływają ustawione ukośnie

9. Rozwiąż rebus:



Wyraz ten oznacza:

- A) koniec czegoś
- B) roślinę rosnącą w Polsce, zazwyczaj o trzech lub czterech listkach
- C) fragment ciała człowieka np. ręka
- D) potoczną nazwę rybki akwariowej

10. Postaw znak X obok każdego fałszywego zdania:

Koralowiec to roślina.	
Ryby słodkowodne mogą żyć w jeziorach.	
Wąż jest ssakiem.	
Klacz to rasa koni.	

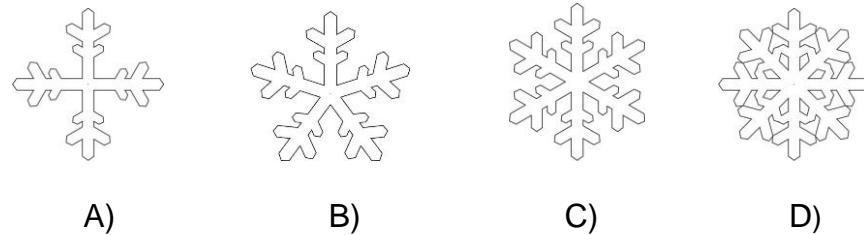
Ile zdań jest fałszywych?

- A) 1
- B) 2
- C) 3
- D) 4

11. Lupa ze szkła nadaje się:

- A) tylko do pomniejszania obrazu przedmiotu
- B) tylko do powiększania obrazu przedmiotu
- C) tylko do powiększania oraz odwracania obrazu przedmiotu
- D) do pomniejszania, powiększania i odwracania obrazu przedmiotu

12. Płatki śniegu mają kształt:











**Zadania za 5 punktów**

13. Przypomnij sobie doświadczenie „Lupa bez szkła”. Należało w nim zrobić pinezką dziurkę w kartce oraz zatrzymać kroplę wody w dziurce od klucza. Potem trzeba było popatrzeć na drobny tekst przez dziurkę w kartce, a następnie przez kroplę wody. Okazało się, że:













- A) litery powiększały się w obu przypadkach
- B) litery zmniejszały się w obu przypadkach
- C) litery zwiększały się, gdy patrzyło się przez dziurkę w kartce, a zmniejszały się przy patrzeniu przez kroplę
- D) litery zmniejszały się, gdy patrzyło się przez dziurkę w kartce, a zwiększały się przy patrzeniu przez kroplę

14. Odczytaj szyfr. Dokończ zaszyfrowane zdanie.

Alfabet:

							
A	K	L	M	O	R	T	U

Szyfr:

- A) zużyte tusze do drukarek
- B) zużyte baterie
- C) zużyte papiery i tektury
- D) zużyte plastikowe opakowania




15. Która para zwierząt jest spokrewniona?

- A) byk i jałówka
- B) ogier i jagnię
- C) owca i cielę
- D) suka i żrebię

16. Przypomnij sobie mapę Polski. Które zdanie jest prawdziwe?

- A) Najwyższe góry Polski znajdują się na północy, a brzeg morza – na południu.
- B) Najwyższe góry Polski znajdują się na południu, a brzeg morza – na północy.
- C) Najwyższe góry i brzeg morza znajdują się na południu Polski.
- D) Najwyższe góry i brzeg morza znajdują się na północy Polski.



17. Przez cały tydzień Witek robił notatki pogody i zapisywał je w tabeli.

PONIEDZIAŁEK	WTOREK	ŚRODA	CZWARTEK	PIĄTEK	SOBOTA	NIEDZIELA
						
3°C	4°C	2°C	2°C	0°C	-5°C	-5°C

Które zdanie jest prawdziwe?

- A) W weekend (czytaj: *fikend*) wypogodziło się i temperatura wzrosła.
- B) Najwięcej opadów było do wtorku, a od środy zaczęły zamarzać kałuże.
- C) Najwięcej opadów było na początku tygodnia, a pierwszy słoneczny dzień pojawił się we czwartek.
- D) Pogoda była bezchmurna przez 3 dni.

18. Każdy obrazek został podzielony na kolumny z numerkami. Znajdź 7 szczegółów, którymi różnią się te dwa obrazki. Odczytaj numery kolumn, w których znajdują się te szczegóły i otocz je kółeczkami w tabelce pod obrazkami. Przeczytaj po kolei od lewej do prawej litery pod kółeczkami w tabelce. W ten sposób utworzysz wyraz z siedmiu liter. Znajdź w odpowiedziach, co on oznacza.



1	2	3	4	5	6	7	8	9	10	11	12	13	14	15	16
T	D	R	A	M	B	P	K	T	I	W	N	A	O	J	R

Wyraz utworzony w tabelce oznacza:

- A) pojazd poruszający się po szynach
- B) pojazd używany przez rolników do pracy w polu
- C) przedmiot ze szczeczlami
- D) lekkie buty sportowe

**PAMIĘTAJ O PRZENIESIENIU ODPOWIEDZI NA KARTĘ ODPOWIEDZI**