

Za brak odpowiedzi uczeń otrzymuje zero punktów za dane zadanie.  
Minimalna liczba punktów możliwych do uzyskania wynosi 0.  
Maksymalnie można uzyskać 72 punkty.

Tu wpisz swoje  
IMIĘ

Tu wpisz swoje  
NAZWISKO

Tu wpisz swoją KLASĘ  
i NUMER Z DZIENNIKA

Tu wpisz swoją PŁEĆ

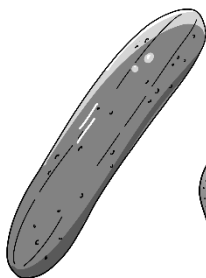

Czas: 45 minut

Doświadczenia do testu:


1. Gniotek
2. Zapach metalu

Zadania za 3 punkty

1. Z którego warzywa robi się mizerię?



A)



B)



C)



D)


2. Kiedy podczas spaceru można znaleźć baze i żonkile?

- A) zimą
- B) wiosną
- C) latem
- D) jesienią

3. Który ptak potrafi naśladować ludzki głos?



A)



B)



C)



D)

4. Którego z owoców nie znajdziesz w lesie iglastym?

- A) borówki
- B) czereśni
- C) maliny
- D) jeżyny

5. Czego nigdy nie zaobserwujesz podczas burzy?

- A) piorunów
- B) deszczu
- C) błyskawic
- D) bezchmurnego nieba

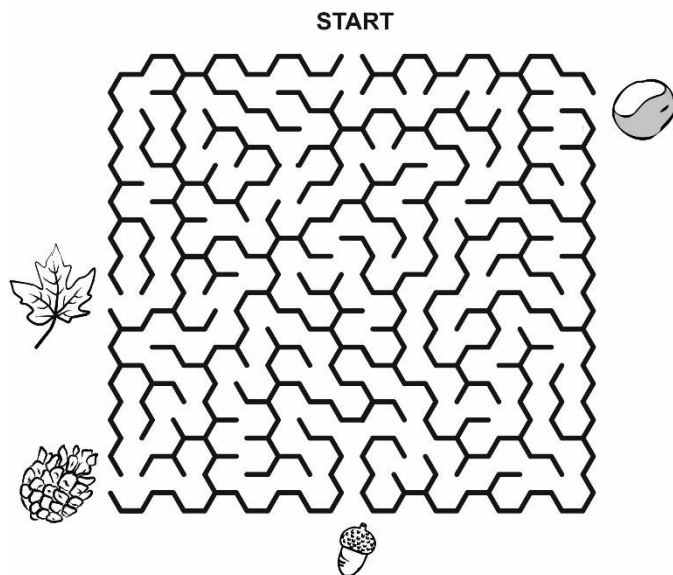
6. Monety, których używamy w sklepie, zrobione są z:

- A) tektury
- B) twardego plastiku
- C) metali
- D) modeliny

Zadania za 4 punkty

7. Przejdź przez labirynt, zaczynając od miejsca START. Co znajduje się przy wyjściu z labiryntu?

- A) żołądz
- B) kasztan
- C) szyszka
- D) liść



8. Przypomnij sobie doświadczenie z gniotkiem. Który balon skrzypiał podczas ściskania w tym doświadczeniu?

- A) balon z bułką tartą
- B) balon z mąką ziemniaczaną
- C) balon z mąką pszenną
- D) balon z wodą

9. Gdzie znajdują się twoje biodra?

- A) wyżej niż serce, ale niżej niż łopatki
- B) niżej niż kolana
- C) niżej niż żebra, ale wyżej niż kolana
- D) wyżej niż łopatki

10. Przypomnij sobie, jak wyglądają chomik, jamnik i dalmatyńczyk.

Które zdanie jest prawdziwe?

- A) Chomik jest większy od jamnika.
- B) Jamnik jest większy od dalmatyńczyka.
- C) Jamnik jest mniejszy od chomika.
- D) Dalmatyńczyk jest większy od jamnika.

11. Który rysunek przedstawia zwierzę budujące tamy ze ścinanych przez siebie drzew?



- A)
- B)
- C)
- D)

12. Ile nazw dni tygodnia zawiera literkę t?

- A) jedna
- B) dwie
- C) trzy
- D) cztery

Zadania za 5 punktów

13. Przypomnij sobie doświadczenie z zapachem metalu. Przedmioty z metalu dokładnie umyte płynem do mycia naczyń mogą zacząć pachnieć „metalowo”, gdy dotykamy ich

- A) gołymi, nieumytymi rękami
- B) rękami w wełnianych rękawiczkach
- C) rękami w jednorazowych rękawiczkach
- D) gołymi rękami dokładnie umyтыми mydłem

14. Zosia napisała w swoim dzienniku:

„Pojechaliśmy dzisiaj z rodzicami do sklepu. Tato znalazł miejsce do parkowania tuż obok wejścia. Mój brat Piotrek natychmiast pobiegł do działu ze śrubkami i gwoździami. Rodzice długo wybierali panele do sypialni i tapetę do mojego pokoju.”

Do jakiego sklepu wybrała się Zosia z rodzicami?

- A) spożywczego
- B) z częściami do samochodów
- C) meblowego
- D) budowlanego

15. Uzupełnij tekst wyrazami z tabelki. Obok wyrazów wpisz także stojące przy nich w nawiasach wielkie litery.

Jest godzina osiemnasta. Niedługo nadejdzie (1).....  
 Niebo jest (2)....., więc będzie można zobaczyć na niebie gwiazdy i (3)..... W ciągu dnia jest jeszcze zimno, a za kilka godzin zapowiadają nawet (4).....

(1)	(2)	(3)	(4)
świt (K)	bezczmurne (A)	błyskawicę (K)	upał (A)
noc (P)	zachmurzone (U)	słońce (P)	przymrozek (K)
dzień (M)	zamglone (A)	księżyc (R)	

Przeczytaj wpisane przez siebie cztery wielkie litery.

Wyraz, który powstał, oznacza:

- A) ptaka, który mieszka razem z kogutem
- B) odchody zwierząt
- C) biały, sypki produkt ze sklepu
- D) miejsce pełne drzew i alejek, po których można spacerować

16. Przypomnij sobie doświadczenie z gniotkiem. Przeczytaj zdania z tabelki. Zapisz X obok każdego prawdziwego zdania.

Z mąki pszennej nie można zrobić makaronu.	
W doświadczeniu wsypywano różne mąki do balonów.	
Skrobia jest głównym składnikiem mąki ziemniaczanej.	

Ile zdań jest prawdziwych?

- A) 3
- B) 2
- C) 1
- D) 0

17. W tym zadaniu trzeba zamalować kratki w tabelce według wzoru. Na przykład obok zamalowano na szaro kratki: A3 i C2.

	1	2	3
A			
B			
C			


W dużej tabelce obok zamaluj kratki: D3, B4, G5, F3, A5, C5, B3, E5, F4, G3, D5, C3, E3, F5, D4, B5, A3

	1	2	3	4	5	6	7
A							
B							
C							
D							
E							
F							
G							

Po zakończeniu malowania powstaje rysunek, który przypomina:

- A) łaskę
- B) drabinę
- C) widły
- D) drzewo

18. Dwa rysunki różnią się siedmioma szczegółami. Znajdź te różnice i otocz je kółkami.



Rzędy oznaczono pomiędzy rysunkami literkami X lub Y. W tabelce wpisz, ile różnic znajduje się w rzędach X, a ile w rzędach Y.

X	
Y	

Wybierz prawidłową odpowiedź:

- A) W rzędach X są dwie różnice, a w rzędach Y jest pięć różnic
- B) W rzędach X są trzy różnice, a w rzędach Y są cztery różnice
- C) W rzędach X są cztery różnice, a w rzędach Y są trzy różnice
- D) W rzędach X jest pięć różnic, a w rzędach Y są dwie różnice